

**TENTATIVE ANSWER KEY**

**PAPAR - I - GK**

**(SERIAL CODE - B)**

01. பொன்னான முக்கோணம் எதனோடு தொடர்புடையது?

(A) வேளாண்மை (B) சுற்றுலா

(C) கல்வி (D) தொழில்கள்

(குறிப்பு :- டெல்லி, ஆக்ரா, ஜெய்பூர் இவை மூன்றும் பொன்னான முக்கோணம் ஆகும்)

02. உலக வங்கியின் தற்போதைய தலைவர் யார்?

(A) கிறிஸ்டின் லஹார்ட் (B) மிலிண்ட் காரத்

(C) டகேஹிகோ நகாஸ் (D) ஜிங் யாங் கிம்

03. மத்திய கங்கை அமைப்பு எந்த வருடம் உருவாக்கப்பட்டது?

(A) 1981 (B) 1983 (C) 1985 (D) 1990

04. உலக நீர் தினம் கொண்டாடப்படும் நாள் ..... ஆகும்.

(A) பிப்ரவரி 20 (B) பிப்ரவரி 22

(C) மார்ச் 20 (D) மார்ச் 22

05. "தொழில் நுட்ப கண்ணோட்டம் 2020" -ல் இந்திய வளர்ச்சிக்காக எந்த வகையான இலக்கு சேர்க்கப்பட்டுள்ளது?

(A) உத்தம இலக்கு (B) கூட்டு இலக்கு

(C) குறுகிய கால இலக்கு (D) நீண்ட கால இலக்கு

06. சந்தானம் குழு ..... சம்பந்தப்பட்டது.

(A) ஊழலை ஒழிப்பது (B) வறுமையை ஒழிப்பது

(C) மத்திய மாநில உறவுகள் (D) இட ஒதுக்கீடு

07. மாவட்ட ஆட்சித் தலைவர் உருவாக்கியவர் யார்?

(A) வாரன் ஹேஸ்டிங்ஸ் (B) காரன்வாலிஸ்

(C) ரிப்பன் பிரபு (D) மாயோபிரபு

08. தகவல் அறியும் சட்டவிதிகள் எந்த ஆண்டு உருவாக்கப்பட்டது?

(A) 2005 (B) 2008 (C) 2010 (D) 2012

09. "குடிமை பணிகள் தினம்" எந்த நாளில் கொண்டாடப்படுகிறது?

(A) மார்ச் 10 (B) மார்ச் 21 (C) ஏப்ரல் 10 (D) ஏப்ரல் 21

10. தேசிய வன ஆராய்ச்சி நிலையம் அமைந்துள்ள இடம் எது?

(A) சிம்லா (B) நாக்பூர் (C) முசோரி (D) டேராடூன்

11. எது "நியமிக்கப்பட்ட தினம்" என்று அழைக்கப்படுகிறது?

(A) ஜனவரி 22, 1947 (B) ஆகஸ்ட் 15, 1947

(C) நவம்பர் 26, 1949 (D) ஜனவரி 26, 1950

12. அரசியலமைப்பு இயற்றப்பட்டதிலிருந்து உடனடி நடைமுறை கொடுக்கப்படாதது எது?

(A) அடிப்படை உரிமைகள் (B) குடியரிமை

(C) தற்காலிகப் பாராளுமன்றம் (D) தற்காலிக சிறப்பம்சங்கள்

13. இந்திய அரசியலமைப்பின் முகவுரையில் உள்ளடங்காத நீதி எது?

(A) சமூக நீதி (B) பொருளாதார நீதி

(C) அரசியல் நீதி (D) இயற்கை நீதி

14. எந்த வழக்கு அரசியலமைப்பின் அடிப்படைக் கட்டமைப்பை உருவாக்கியது?

(A) பெருபாரி வழக்கு

(B) கோல்கந்தாத் வழக்கு

(C) மினர்வாமில் வழக்கு

(D) கேசவானந்தா வழக்கு

15. "சட்டத்தின் ஆட்சி" என்ற கொள்கையை அறிமுகப் படுத்தியவர் ..... ஆவார்.

(A) தாமஸ் ஹாப்ச்

(B) ஏ.வி. டைசி

(C) ஜான் லாக்

(D) பி.ஆர். அம்பேத்கர்

16. "செய்" அல்லது "செத்துமடி" என்ற தனது கருத்தை வெளியிட்டவர் ..... ஆவார்.

(A) நேரு

(B) காந்தி

(C) அபுல்கலாம் ஆசாத்

(D) ஜின்னா

17. .... அன்று பாகிஸ்தான் சுதந்திர நாடாக மாறியது.

(A) ஆகஸ்ட் 14, 1947

(B) ஆகஸ்ட் 15, 1947

(C) ஜனவரி 15, 1948

(D) ஆகஸ்ட் 14, 1948

18. .... ஆண்டு சபர்மதி ஆசிரமத்தில் இருந்து காந்தியடிகள் தன்னுடைய தண்டிப் பாத யாத்திரையை துவக்கினார்.

(A) 1929

(B) 1930

(C) 1931

(D) 1932

19. சமரசு சுத்த சன் மார்க்க சங்கம் என்ற அமைப்பை ..... துவக்கினார்.

(A) இராஜாராம் மோகன்ராய்

(B) இராமலிங்க அடிகளார்

(C) ஸ்ரீ வைகுண்டசுவாமிகள்

(D) ஜோதிபாபுலே

20. முழு சுதந்திர கோரிக்கை அறிவிக்கப்பட்ட காங்கிரஸ் மாநாடு ..... ஆகும்.

(A) லாகூர்

(B) டில்லி

(C) நாக்பூர்

(D) மதராஸ்

21. விதி 32 என்பது அரசியலமைப்பில் உயிர் மற்றும் இதயம் என்று கூறியவர் யார்?

(A) ஜவஹர்லால் நேரு

(B) இராஜேந்திர பிரசாத்

(C) பி.ஆர். அம்பேத்கர்

(D) இராதாகிருஷ்ணன்

22. புதிய அகில இந்தியப் பணிகள் உருவாக்கப் பயன்படும் அரசியலமைப்பின் சரத்து எண் ..... ஆகும்.

(A) சரத்து 312

(B) சரத்து 315

(C) சரத்து 317

(D) சரத்து 319

23. இந்திய உச்சநீதி மன்றம் திறக்கப்பட்ட நாள் ..... ஆகும்.

(A) ஆகஸ்ட் 15, 1947

(B) நவம்பர் 26, 1949

(C) டிசம்பர் 10, 1949

(D) ஜனவரி 28, 1950

24. உயர்நீதி மன்ற நீதிபதிகளை நியமிப்பவர் யார்?

(A) கவர்னர்

(B) முதலமைச்சர்

(C) குடியரசுத் தலைவர்

(D) பிரதம மந்திரி

25. பல்வந்தராய் கமிட்டி பரிந்துரையின் பேரில் பஞ்சாயத்து ராஜ் அமைப்பு ஏற்படுத்திய முதல் மாநிலம் ..... ஆகும்.

(A) பீகார்

(B) கர்நாடகா

(C) இராஜஸ்தான்

(D) உத்திரபிரதேசம்

26. மகாத்மாகாந்தி படுகொலை செய்யப்பட்ட நாள் ..... ஆகும்.

(A) ஜனவரி 30, 1947

(B) ஆகஸ்ட் 30, 1947

(C) ஜனவரி 30, 1948

(D) ஆகஸ்ட் 30, 1948

27. இந்தியாவின் இரும்பு மனிதர் என சிறப்பாக அழைக்கப்படுபவர் ..... ஆவார்.

(A) டாக்டர் இராஜேந்திர பிரசாத்

(B) காந்தி

(C) சுபாஸ் சந்திர போஸ்

(D) வல்லபாப்பட்டேல்

28. தூத்துக்குடியில் சுதேசிய வாணிப கப்பல் கம்பெனியை துவக்கியவர் ..... ஆவார்.

- (A) வ.உ. சிதம்பரம் பிள்ளை (B) நீலகண்ட பிரம்மாச்சாரி  
(C) இராஜாஜி (D) பாரதி

29. சென்னை மாநிலம் என்ற பெயரை தமிழ்நாடு என பெயர் மாற்றிய முதல்வர் ..... ஆவார்.

- (A) கே. காமராஜ் (B) சி. இராஜாஜி  
(C) சி.என். அண்ணாதுரை (D) மு. கருணாநிதி

30. 1986ம் ஆண்டு புதிய கல்விக் கொள்கையை அறிமுகப்படுத்தியவர் ..... ஆவார்.

- (A) இந்திராகாந்தி (B) இராஜீவ்காந்தி  
(C) மொரார்ஜி தேசாய் (D) வி.பி. சிங்

31. மாணவர்களை பள்ளிக்கு கவர்ந்து இழுக்க மதிய உணவுத் திட்டத்தை அறிமுகப்படுத்திய முதல்வர் ..... ஆவார்.

- (A) கே. காமராஜ் (B) சி. இராஜாஜி  
(C) சி.என். அண்ணாதுரை (D) ஜெ. ஜெயலலிதா

32. .... இந்தியாவின் பாடும் குயில் என்று சிறப்பாக அழைக்கப்பட்டார்.

- (A) சரோஜினி நாயுடு (B) அன்னிபெசன்ட்  
(C) எம்.எஸ். சுப்புலட்சுமி (D) ருக்மணி அருண்டேல்

33. இந்திய தேசிய காங்கிரஸ் உருவாக காரணமாக இருந்த ஆங்கிலேயர் ..... ஆவார்.

- (A) ஏ.ஓ. ஹியூம் (B) ராபர்ட் கிளைவ்  
(C) இல்பர்ட் (D) ஹண்டர்

34. .... என்பவர் தேசியவாதிகள் மத்தியில் பஞ்சாபின் சிங்கம் என சிறப்பாக அழைக்கப்படுகிறார்.

- (A) திலக் (B) பசுத்  
(C) லாலா லஜ்பத் ராய் (D) பிபின் சந்திர பால்

35. .... சட்டத்தின் மூலம் மாகாணங்களில் இரட்டை ஆட்சி அறிமுகம் செய்யப்பட்டது.

- (A) 1892 ம் ஆண்டு இந்திய கவுன்சில் சட்டம்  
(B) 1909 ம் ஆண்டு இந்திய அரசு சட்டம்

(C) 1919 ம் ஆண்டு இந்திய அரசு சட்டம்

- (D) 1935 ம் ஆண்டு இந்திய அரசு சட்டம்

36. பிரகதீஸ்வரர் கோயிலை கட்டியவர் ..... ஆவார்.

- (A) இராஜ இராஜன் (B) இராஜேந்திரன்  
(C) பராந்தகன் (D) குலோத்துங்கன்

37. இரண்டாம் பாணிபட் யுத்தம் ..... ஆண்டில் நடை பெற்றது.

- (A) 1526 (B) 1556 (C) 1761 (D) 1765

38. இந்தியாவில் மேற்கத்திய கல்வியை அறிமுகப்படுத்த காரணமாக இருந்தவர் ..... ஆவார்.

- (A) மெக்காலே பிரபு (B) மன்றோ பிரபு  
(C) டல்கெசி பிரபு (D) ஹார்டிங் பிரபு

39. இந்தியா பல்வேறு கலாச்சாரங்களில் இணைப்பத் தோற்றம் என ..... குறிப்பிடுகிறார்.

- (A) காந்தி (B) நேரு  
(C) பட்டேல் (D) ராஜாராம் மோகன்ராய்

40. பெரியார் சுய மரியாதை இயக்கத்தை துவக்கிய ஆண்டு ..... ஆகும்.

- (A) 1924 (B) 1925 (C) 1926 (D) 1927

41. சிந்து சமவெளி மக்களின் முக்கிய துறைமுகம் ..... ஆகும்.

- (A) ஹரப்பா (B) காலிபங்கன்  
(C) லோத்தல் (D) மொகஞ்சதாரோ

42. கௌதம புத்தர் பிறந்த இடம் ..... ஆகும்.

- (A) குண்டா (B) கபிலவஸ்து  
(C) கயா (D) குஷிநகரம்

43. .... என்பவரால் அர்த்த சாஸ்திரம் எழுதப்பட்டது.

- (A) மெகஸ்தனீஸ் (B) கவுடில்யர்  
(C) விசாகத்தர் (D) காளிதாசர்

44. இரண்டாம் சந்திர குப்தர் ஆட்சி காலத்தில் இந்தியாவுக்கு வருகை புரிந்த சீன அறிஞர் ..... ஆவார்.

- (A) பாஹியான் (B) யுவான்சுவாங்  
(C) டிசிங் (D) பான்யாங்

45. தன்வந்திரி, குப்தர் காலத்தில் ஒரு புகழ் பெற்ற ..... ஆவார்.

- (A) கணித மேதை (B) மருத்துவ வல்லுநர்  
(C) கவிஞர் (D) வானியல் நிபுணர்

46. தமிழகத்தில் புதியதாக அறிவிக்கப்பட்ட புலிகள் காப்பகம் .... ஆகும்.

- (A) ஆனைமலை (B) முதுமலை  
(C) சத்தியமங்கலம் (D) களக்காளடு முண்டன்துறை

47. தமிழகத்தின் மாநில விலங்கு ..... ஆகும்.

- (A) யானை (B) புலி  
(C) வரையாடு (D) கடமாள்

48. தமிழகத்தின் மாநில மலர் ..... ஆகும்.

- (A) ரோஜா (B) மல்லிகை  
(C) கலப்பை கிழங்கு (D) மாம்பூ

49. தமிழகத்தின் மாநில மரம் ..... ஆகும்.

- (A) தென்னை (B) கழுகு  
(C) பனை (D) இனிப்பு பனை

50. இந்தியாவின் தேசிய பாரம்பரிய விலங்கு ..... ஆகும்.

- (A) புலி (B) சிறுத்தை  
(C) வரையாடு (D) யானை

51. இந்தியப் பெருங்கடலின் சராசரி ஆழம் ..... ஆகும்.

- (A) 4000 மீ (B) 2000 மீ (C) 1000 மீ (D) 500 மீ

52. பூமத்திய ரேகை பகுதியில் சராசரி ஆண்டு வெப்பம் ..... ஆகும்.

- (A) 20°C (B) 26°C (C) 30°C (D) 10°C

53. நீப் அலைகள் ..... ஆம்பிளிபியூடு உள்ளவை.

- (A) மிக அதிகமான (B) மிக குறைந்த  
(C) அளவான (D) இவை ஏதுமில்லை

54. காசிரங்கா தேசிய பூங்கா ..... மாநிலத்தில் அமைந்துள்ளது.

- (A) அஸ்ஸாம் (B) பீகார்  
(C) மேற்கு வங்கம் (D) கர்நாடகம்

55. தமிழ்நாட்டில் அமைந்துள்ள உயிர்கோள பகுதிகளின் எண்ணிக்கை ..... ஆகும்.

- (A) 5 (B) 4 (C) 3 (D) 2  
(குறிப்பு :- நீலகிரி, அகத்தியர் மலை, மன்னார் வளைகுடா)

56. மணல், வண்டல் மற்றும் களி சரி விகிதத்தில் அமைந்த மண் வகை ..... எனப்படும்.

- (A) லோம் (B) மணல் மிகுந்த லோம்  
(C) வண்டல் லோம் (D) இவை ஏதுமில்லை

57. குறைவான மழையும் கடுமையான கோடைகாலமும் ..... மண் உண்டாக காரணம்.

- (A) சிவப்பு (B) கறுப்பு (C) காவி (D) மஞ்சள்

58. சூரியனிடமிருந்து வெளிப்படும் அல்ட்ராவைலட் கதிர்களை தடுக்கும் வடிவ கட்டியாக ..... படலம் செயல்படுகிறது.

- (A) கரியமில வாயு (B) ஒசோன்  
(C) ஆர்ஹான் (D) நியான்

59. வளிமண்டலத்தில் மிகவும் கிழே உள்ள பகுதி ..... ஆகும்.

- (A) மீசோஸ்பியர் (B) ஸ்ட்ராடோஸ்பியர்  
(C) ட்ரோபோஸ்பியர் (D) அயனோஸ்பியர்

60. பூமியின் பரப்பளவில் ஆறில் ஒரு பங்கு ..... பெருங்கடலால் ஆனதாகும்.

- (A) பசிபிக் (B) அட்லாண்டிக் (C) ஆர்க்டிக் (D) இந்தியன்

61. சுமார் 150 மில்லியன் ஆண்டுகளுக்கு முன்னால் இருந்த மாபெரும் கண்டத்தின் பெயர் ..... ஆகும்.

- (A) பேன்ஜியா (B) பேன்தலசா  
(C) தலஜியா (D) இவை ஏதுமில்லை

62. குவார்ட்ஸ் என்பது ஒரு .....

- (A) கனிமம் (B) பாறை (C) தனிமம் (D) இவை ஏதுமில்லை

63. பூமியில் காணப்படும் சுமார் 87% கனிமங்கள் ..... ஆகும்.

- (A) கார்பனேட்டுகள் (B) பாஸ்பேட்டுகள்  
(C) சிலிகேட்டுகள் (D) ஆக்ஸைடுகள்

64. .... என்பது உயிர் பொருட் கூறினாலான படிவுப்பாறை ஆகும்.

- (A) நிலக்கரி (B) பாறை உப்பு (C) சிலேட்டு (D) ஷேல்

65. .... மலைகள் உலகின் பழமையான மலைகளில் ஒன்றாகும்.

- (A) மிகப்பெரிய இமாலயப்பகுதி (B) ஆரவல்லி  
(C) குறைந்த இமாலயப்பகுதி (D) இவை ஏதுமில்லை

66. இந்திய மக்கள் தொகை கணக்கெடுப்பு வழக்கமாக ..... ஆண்டுகளுக்கு ஒரு முறை செய்யப்படுகிறது.

- (A) ஐந்து வருடம் (B) ஆறு வருடம்  
(C) எட்டு வருடம் (D) பத்து வருடம்

67. மொத்த உள்நாட்டு உற்பத்தி அளவிடுவது ஒரு நாட்டின் ..... ஆகும்.

- (A) நிதிநிலை (B) தொழில் உற்பத்தி  
(C) பன்னாட்டு பொருளாதார செயல்பாடுகள்

(D) உள்நாட்டு பொருளாதார நடவடிக்கைகள்

68. இந்தியாவில் பசுமைப்புரட்சி திட்டமிட்டது ..... ஆகும்.

- (A) இரண்டாவது ஐந்தாண்டு திட்ட காலத்தில்  
(B) மூன்றாவது ஐந்தாண்டு திட்ட காலத்தில்  
(C) ஓராண்டு நிறைவு ஐந்தாண்டு திட்ட காலத்தில் (1967-69)  
(D) நான்காவது ஐந்தாண்டு திட்ட காலத்தில்

69. பின்னூறிப்பட்டுள்ளவற்றில் எது மனித வள முதலீடு அல்ல?

- (A) கூலி (B) கல்வி (C) பயிற்சி (D) உடல் நலம்

70. பின்னூறிப்பட்டுள்ள உரங்களில் எது திறந்த பொது அனுமதியின் கீழ் செய்வதில்லை?

- (A) யூரியா (B) நைட்ரஜன் உரங்கள்  
(C) பாஸ்பரஸ் உரங்கள் (D) பொட்டாஷ் உரங்கள்

71. இந்தியாவின் பின் குறிப்பிட்டுள்ள இடங்களில் எது அணு மின் உற்பத்தி நிலையங்களுடன் தொடர்பு கொண்டது அல்ல?

- (A) கூடன்குளம் (B) கோட்டா  
(C) தாராப்பூர் (D) பங்குளரு

72. அறிவு என்பது ஓர் இணையற்ற வளம், ஏனெனில் .....

- (A) இது பகிர்வு செய்யும் போது அதிகரிக்கிறது  
(B) இது தகவலுக்கு நிகரானது  
(C) இது பிரசுர உரிமைக்கு உட்பட்டது

(D) இது குறைந்து செல் திரும்பப் பெறும் வருவாயின் அடிப்படையிலானது

73. பொருளாதார வளர்ச்சி + மாற்றம் ..... ஆகும்.

- (A) நீடித்து நிலைத்த வளர்ச்சி (B) தேசிய வருவாய்  
(C) பொருளாதார முன்னேற்றம் (D) சமச்சீரான முன்னேற்றம்

74. பால் பெருக்கி திட்டத்தின் தந்தை என அழைக்கப்படுபவர் யார்?

- (A) எம்.எஸ். சுவாமி நாதன் (B) சி. சுப்ரமணியம்  
(C) டாக்டர் வர்கீஸ் குரியன் (D) நார்மன் போர்லா

75. பின் கொடுக்கப்பட்டுள்ளவற்றில் எது பிளாஸ்டிக் பணம் என்று அறியப்படுகிறது?

- (A) ஒப்படைப்பு காசோலை (B) கேள் உரிமைத்தாள்  
(C) கடன் அட்டை (D) நன்கொடை காசோலை

76. நிதி ஆயோகின் துணைத் தலைவர் யார்?

- (A) பி.கே. சதுர்வேதி (B) ஓய்.வி. ரெட்டி  
(C) அரவிந்த் விர்மான் (D) அரவிந்த் பாணக்கிரயா

77. இந்திய ரூபாயின் அடையாளம் ₹ என அடையாளம் கொடுத்தவர் ..... ஆவார்.

- (A) ராகேஷ் குமார் (B) டி. உதயகுமார்  
(C) கமல் குமார் பாண்டே (D) ஹிதேஷ் பத்மசாலை

78. பின் கொடுக்கப்பட்டுள்ள மாநிலங்களில் எது மிக அதிக அளவில் காப்பியை உற்பத்தி செய்கிறது?

- (A) தமிழ்நாடு (B) கர்நாடகா  
(C) மேற்கு வங்காளம் (D) அஸ்ஸாம்

79. பல நோக்கு வறுமை எண் என்பது கீழ்க்கண்ட அறிக்கைகளில் ..... ல் இடம் பெற்றுள்ளது.

- (A) மனித மேம்பாட்டு அறிக்கை  
(B) உலக மேம்பாட்டு அறிக்கை

- (C) உலக வறுமை அறிக்கை  
(D) இந்திய மனித மேம்பாட்டு அறிக்கையில்

80. தமிழகம் கீழ்க்கண்டவற்றில் ..... ல் முதலிடம் வகிக்கிறது.

- (A) நீர் மின்சாரம் (B) அனல் மின்சாரம்  
(C) சூரிய ஒளி மின்சாரம் (D) காற்று மின்சாரம்

81. 2011 மக்கட் தொகை கணக்கெடுப்பின் படி நகரங்களில் வாழும் மக்கட்தொகை சதவீதம் ..... ஆகும்.

- (A) 31 (31.6) (B) 32 (C) 33 (D) 35

82. தேசிய மேம்பாட்டு ஆணையத்தின் பதவி சார்பான செயலர் ..... ஆவார்.



(A) திட்டக்குழுவின் துணைத்தலைவர்

(B) திட்டக்குழுவின் செயலர்

(C) நிதி அமைச்சகத்தின் செயலர்

(D) லோக் சபாவின் பொதுச் செயலர்

83. நாபார்டு வங்கி தொடங்க பரிந்துரை செய்த குழு ..... ஆகும்.

(A) சிவராமன் குழு (B) நரசிம்மன் குழு

(C) பொதுக் கணக்குக் குழு (D) கெல்க்கார் குழு

84. கலப்பு பொருளாதாரம் குறிப்பிடுவது ..... ஆகும்.

(A) சிறிய மற்றும் பெரிய தொழில்கள் கூடியிருப்பது

(B) வேளாண்மை மற்றும் தொழில் துறை கூடியிருப்பது

(C) பொதுத்துறை மற்றும் தனியார் துறை கூடியிருப்பது

(D) உள்நாட்டு மற்றும் வெளிநாட்டுத் தொழில்கள் கூடியிருப்பது

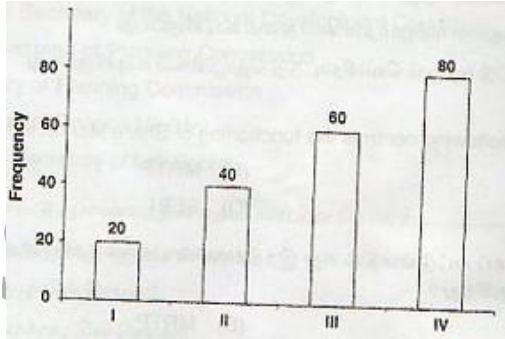
85. பின் கொடுக்கப் பட்டுள்ளதில் எது இந்தியாவின் பங்குச் சந்தையின் செயல்பாட்டைக் கட்டுப்படுத்துகிறது?

(A) FERA (B) MRTP (C) FEMA (D) SEBI

86. தகவலின் அலகு என்ன?


(A) பி. (B) பைட் (C) கிராம் (D) ஹெர்ட்ஸ்

87. II முதல் IV ஆம் வகுப்பு வரை உள்ள மாணவர்களின் எண்ணிக்கை விகிதம் ..... ஆகும்.



(A) 4 : 8 (B) 2 : 8 (C) 4 : 6 (D) 2 : 4

88. கீழ்க்காணும் படத்தில் உள்ள சதுரங்களின் எண்ணிக்கை என்ன?



(A) 7 (B) 9 (C) 10 (D) 12

89. 9, 225, 16, 196, 25, 169, ?, 144 என்ற தொடரில் விடுப்பட்ட எண்ணை காண்க.

(A) 81 (B) 121 (C) 36 (D) 49

90. (x,y,z) புள்ளி விவரத்தின் கூட்டுச் சராசரி மதிப்பு 10 எனில் (10x,10y,10z) புள்ளி விவரத்தின் கூட்டுச்சராசரி மதிப்பு என்ன?

(A) 10 (B) 20 (C) 50 (D) 100

91. இரண்டு எண்களின் L.C.M. 48 எண்களின் விகிதம் 2 : 3 எனில் எண்களின் கூட்டு

(A) 28 (B) 40 (C) 32 (D) 64

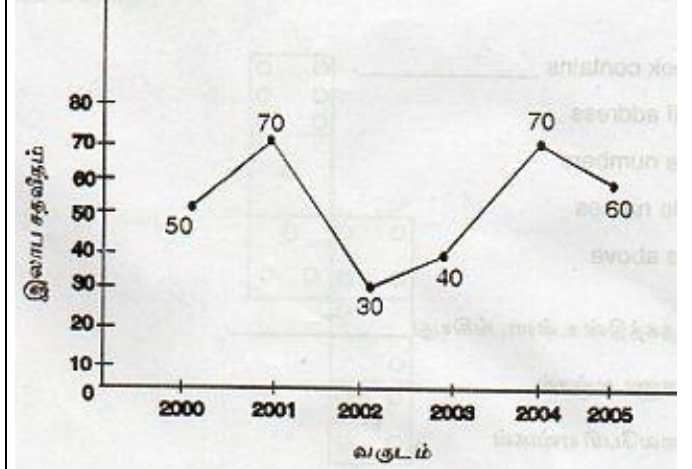
92. ஒரு செவ்வகத்தின் நீளம் மற்றும் அகலம் விகிதம் 3 : 1 அகலமும் 7 செ.மீ ஆகும் என்றால் செவ்வகத்தின் நீளம் ..... ஆகும்.

(A) 14 செ.மீ (B) 16 செ.மீ (C) 18 செ.மீ (D) 21 செ.மீ

93. 7% ஒரு வருடத்திற்கு ரூபாய் 30,000 க்கு கூட்டு வட்டி ரூபாய் 4,347 எனில் வருடம் ..... ஆகும்.

(A) 2 (B) 2 1/2 (C) 3 (D) 4

94. கீழ்க்கண்ட வரைபடத்திலிருந்து குறைந்த பட்ச வருவாய் செலவின விகிதத்தை உடைய வருடம் எது?



(A) 2000 (B) 2002 (C) 2004 (D) 2005

95. F2, ....., D8, C16, B32. என்ற தொடரை பார்த்து, எந்த எண்ணை கோட்டிட இடத்தில் நிரப்ப வேண்டும்?

(A) A16 (B) G4 (C) E4 (D) E3

96. ஒரு முக்கோணத்தின் கோணங்கள் 1: 3: 5 என்ற விகிதத்தில் உள்ளன எனில் அக்கோணங்களின் மதிப்புகள் முறையே ..... ஆகும்

(A) 20 : 100 : 50 (B) 20 : 60 : 100

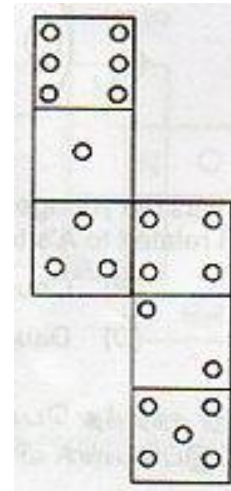
(C) 20 : 30 : 50 (D) 60 : 30 : 90

97. முகவரி புத்தகத்தின் உள்ளடங்கியது .....

(A) மின்னணு அஞ்சல் (B) தொலைபேசி எண்கள்

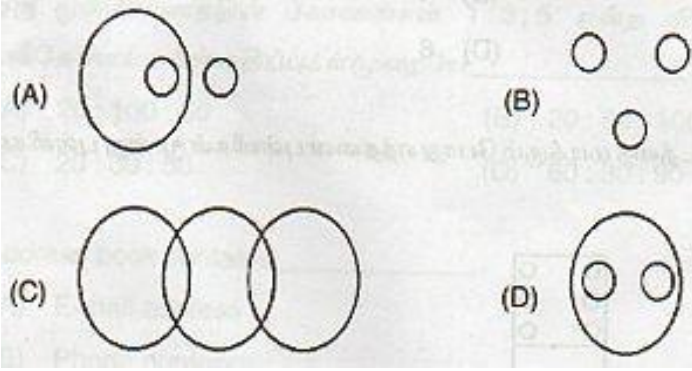
(C) மக்கள் பெயர்கள் (D) இவை அனைத்தும்

98. கொடுக்கப்பட்ட வரைபடத்தை மடிக்கும் போது எத்தனை புள்ளிகள் மூன்று புள்ளிகளின் முகம் எதிரில் உள்ளது?



(A) 2 (B) 4 (C) 5 (D) 6

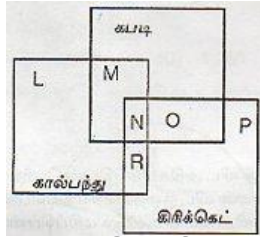
99. பின்வரும் படங்களில் எது பயணிகள், ரயில் மற்றும் பஸ் இடையில் சிறந்த உறவு குறிக்கிறது?



100. A, B யிடம் கூறியது, "நான் நேற்று சந்தித்த பெண் எனது நண்பனின் அம்மாவின் சகோதரரின் இளைய மகள், எப்படி இப்பெண் A வின் சொந்தம் ஆவார்.

- (A) அண்ணன் மகள் (B) உறவினர்  
(C) நண்பர் (D) மகள்


101. கீழே கொடுக்கப்பட்ட வரைபடம். கிரிக்கெட், கால்பந்து மற்றும் கபடி விளையாடும் மாணவர்களை பிரதிபலிக்கிறது.



வரைபடம் ஆய்வு செய்து மூன்று விளையாட்டுகள் விளையாடும் மாணவர்களை அடையாளம் காண்க.

- (A)  $L + M - P$  (B)  $R + O$   
(C)  $R + N + O$  (D) N

102. வரிசையில் உள்ள விடுபட்ட இடகுறி காண்க.



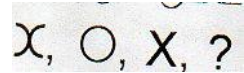
- (A) □□ (B) E (C) W (D) ∃

103.

- i) கீதா என்பவர் லதாவை விட அதிக மதிப்பெண் பெற்றார்.  
ii) லதா என்பவர் கண்ணனை விட குறைவான மதிப்பெண்கள்.  
iii) கண்ணன் என்பவர் லலிதாவை விட அதிக மதிப்பெண் பெற்றார்.  
iv) லலிதா என்பவர் கீதாவை விட அதிகமாகவும், கண்ணனைவிட குறைவாக மதிப்பெண் பெற்றார் எனில், இங்கு அதிக மதிப்பெண் வாங்கியவர் யார்?

- (A) கீதா (B) லதா (C) கண்ணன் (D) லலிதா

104. அடுத்து வரும் உருவம் காண்க.



- (A) □ (B) ^ (C) v (D) ◇

105. கீழே உள்ள வட்ட விளக்கப்படம் ஒரு வீடு கட்டுவதற்கு செலவு மொத்த செலவு ரூபாய் 5,000 ஆகும்.



தோழிலாளர்களுக்கு செலவு செய்த தொகை.

- (A) 2,000 (B) 1,600 (C) 1,250 (D) 1,000

106. Replace the underlined word in the sentence with one of the phrasal verbs given below to convey the meaning.

India symbolises world peace.

- (A) stands for (B) makes for  
(C) waits for (D) looks for

107. Complete the sentence with suitable degrees of adjectives.

Rajasthan is hotter ..... States in India.

- (A) as more other (B) than most other  
(C) as much as any other (D) not so much as

108. Find out the error in the given sentence and spot correct form.

Neither of the two leaders were invited.

(A) Neither of the two leaders was invited

- (B) Neither of the two leaders are invited  
(C) (A) and (B) are correct  
(D) None of these is correct

109. Identify the pattern of the sentence.

Always speak the truth.

- (A) A V S (B) S V A (C) S V O (D) S V O A

110. Which of the following sentences convey the similar/correct meaning?

'Parents seem to have no control over their children' .

(A) Parents seem to have a little control over their children

- (B) Parents seem to have control over their children  
(C) Parents seem to have little control over their children  
(D) None of these

111. Attack a Suffix to the word from the options given below.

A snake is a very danger ..... reptile.

- (A) able (B) ous (C) ly (D) ness

112. Choose the correct Synonym for the underlined word from the options given below.

Ornithology is a fascinating study.

- (A) dull (B) inspired  
(C) very interesting (D) very thin

113. Choose the correct Antonym of the underlined word form the options given below:

He cursed himself.

- (A) annoyed (B) displeased  
(C) irritated (D) **Praised**

114. Choose the correct question tag for the following statement.

Work is worship .....

- (A) wasn't it? (B) **isn't it?**  
(C) can't it? (D) won't it?

115. Find out whether the following sentence is simple, complex or compound.

Being clever she answers all the questions.

- (A) **Complex** (B) compound  
(C) Simple (D) none of these

116. ஒருமை பன்மைப் பிழையற்ற தொடர் எது?

- (A) அவன் கவிஞன் அல்ல (B) அவன் கவிஞன் அன்று  
(C) **அவன் கவிஞன் அல்லன்** (D) அவன் கவிஞன் அல்லவோ?

117. வழுஉச் சொல்லற்ற தொடரைக் கண்டறி :

- (A) வலது பக்கம் சுவறில் எழுதாதே  
(B) **வலப்பக்கச் சுவரில் எழுதாதே**  
(C) வலப்பக்கச் சுவற்றில் எழுதாதே  
(D) வலதுபக்கம் சுவரில் எழுதாதே

118. செய்வினை வாக்கியம் கண்டறிக.

- (A) கம்பர் இராமாயணம் எழுதினார்  
(B) இராமாயணம் கம்பரால் எழுதப்பட்டது  
(C) கம்பர் இராமாயணம் எழுதப்பட்டது  
(D) **இராமாயணத்தை கம்பர் எழுதினார்**

119. "கல்வி கரையில" - இத்தொடரில் மோனையைக் கண்டறிக.

- (A) ல் (B) **க** (C) ல (D) ரை

120. "நல்லவை" எதிர்ச்சொல் தருக.

- (A) நன்று (B) பெரியவை (C) **அல்லவை** (D) சிறியவை

121. பொருந்தாச் சொல்லைக் கண்டறிக : மாணிக்கம், முத்து, பவளம், சங்கு, கிளிஞ்சல்.

- (A) முத்து (B) சங்கு (C) **மாணிக்கம்** (D) கிளிஞ்சல்

122. "கோ" என்ற ஒரெழுத்து ஒரு மொழி உணர்த்தும் பொருள் யாது?

- (A) மகன் (B) உழவன் (C) **அரசன்** (D) அமைச்சன்

123. "உலகெலாம் உணர்ந்து ஒதற்கரியவன்" எனத் தொடங்கும் பாடலை இயற்றியவர் .....

- (A) திருமூலர் (B) **சேக்கிழார்** (C) வள்ளுவர் (D) கம்பர்

124. எழில் என்ன சாப்பிட்டாய்? எவ்வகை வாக்கியம்?

- (A) கட்டளை (B) **வினா** (C) உணர்ச்சி (D) செய்தி

125. "மணற்கேணி" பிரித்து எழுதுக.

- (A) மண் + கேணி (B) மண்ணு + கேணி  
(C) ம + கேணி (D) **மணல் + கேணி**